

ВСЕРОССИЙСКАЯ ОЛИМПИАДА ШКОЛЬНИКОВ
ПО ИСТОРИИ 2018–2019 УЧЕБНЫЙ ГОД
ШКОЛЬНЫЙ ЭТАП
5 КЛАСС

Шифр Ш-12.ч.5.09

1. Выберите правильный ответ. Ответ внесите в таблицу.

1.1. Прародиной человечества большинство учёных считает

- 1) Восточную Африку 3) высокие широты Евразии
2) Центральную Европу 4) Центральную Азию

1.2. Впервые наскальные рисунки первобытных людей были обнаружены в 1879 г. в:

- 1) пещере Ляско (Франция) 3) Каповой пещере (Россия)
2) пещере Альтамира (Испания) 4) пещере Зверей (Египет)

1.3. Орудие, изменившее характер земледелия первобытных людей, состояло из дышла и лемеха и называлось

- 1) мотыга 3) рубило
2) плуг 4) соха

1.4. Первыми в истории продолжительность года в 365 суток определили жители

- 1) Междуречья 3) Древнего Египта
2) Древней Греции 4) Месопотамии

Ответ:

1.1.	1.2.	1.3.	1.4
1	2	2	3

За каждый правильный ответ – 2 балла. Всего за задание 8 баллов.

2. По какому принципу образованы ряды? Напишите максимально точный ответ.

2.1. Бастет, Тот, Анубис, Сет

2.2. Папирус, псец, иероглиф, свиток

Ответ: 2.2 Ряд образован по принципу писма. Все что там написано связано с древней письменностью. 2.1 Ряд образован по все перечисленные имена имена богов.

За каждый правильный ответ - по 2 балла. Всего за задание 4 балла.

3. Что объединяет три из четырёх понятий, какое является лишним? Свой ответ объясните.

3.1. Хаммурапи, Мардук, Саргон, Навуходоносор.

3.2. Ткачество, гончарное дело, скотоводство, обработка металлов.

Ответ: 3.2. Все это ремесло. лишнее слово скотоводство.

За каждое правильно указанное лишнее понятие с правильным пояснением - по 3 балла. Принимается только полный ответ. 1 балл за ответ без пояснения. Всего за задание 6 баллов.

4. Расположите события в хронологической последовательности. Ответ внесите в таблицу в виде последовательности букв.

А) постройка пирамиды Хеопса

Б) появление неандертальца

В) объединение Верхнего и Нижнего Египта

Г) возникновение скотоводства

Д) формирование родовой общины

Ответ:

Б	В	Д	Г	А
---	---	---	---	---

За полностью верную хронологию - 5 баллов, за хронологию с одной ошибкой - 1 балл, за две и более ошибки - 0 баллов. Всего за задание 5 баллов.

5. Верны ли следующие утверждения («Да» - «Нет»)? Ответы внесите в таблицу.

1. Термин «homo sapiens» равнозначен понятию «человек прямоходящий».

2. Неолит - третий период каменного века, характеризующийся переходом от присваивающего к производящему хозяйству.

3. Золото было основным металлом, из которого производили орудия труда первобытные люди.

4. В Древнем Египте было развито ирригационное земледелие.

5. Нефертити была супругой фараона Тутанхамона.

6. В окрестностях современного Луксора (древних Фив) был построен храм царицы Хатшепсут.

7. Ка - дух человека в религии древних египтян.

Ответ:

1	2	3	4	5	6	7
да	да	нет	нет	да	да	да

- + + - - + +

За каждый правильный ответ – 2 балла. Всего за задание 14 баллов.

6. Решите хронологическую задачу. Обязательно приведите необходимые расчёты.

Известно, что фараон XVIII династии Аменхотеп IV (позднее Эхнатон) был автором самой известной религиозной реформы Древнего Египта. На 3-м году своего правления (приблизительно в 1350 г. до н.э.) он начал строительство храма нового бога – Атона. Несмотря на сильное сопротивление жречества и других слоёв населения, культ Атона просуществовал до воцарения Тутанхамона, вернувшегося в старую столицу и восстановившего почитание древних богов, приблизительно в 1329 г.

6.1. Сколько лет просуществовал культ Атона?

6.2. Сколько лет назад Тутанхамон вернулся в Мемфис и к традиционной религии?

Ответ:

6.1. $1350 - 1329 = 21$ 21 год просуществовал культ Атона.

6.2.
$$\begin{array}{r} 2018 \\ - 1329 \\ \hline 689 \end{array}$$
 689 лет назад Тутанхамон вернулся.

За правильное решение первой задачи – 3 балла, второй задачи – 2 балла. Всего за задание – 5 баллов.

7. Ответьте на вопросы.

Археологи обнаружили почти нетронутую гробницу в районе Мемфиса. Она представляет собой остатки кирпичной надстройки, под которой находится огромная погребальная камера, состоящая из 31 помещения. На стенах гробницы изображены сцены земной жизни: мужчина с женщиной на охоте в пустыне; мужчина наблюдает за постройкой судов и т. д.

7.1. В последней комнате было обнаружено мумифицированное тело. Как называется объект, в котором хранилась мумия?

Ответ: гробница.

За правильный ответ – 1 балл.

7.2. Ассистент профессора полагает, что гробница принадлежит знатному вельможе. Имеет ли основание его предположение? Свой ответ обоснуйте.

Ответ: Да. Потому что гробница представляет собой остатки кирпичной надстройки. Кирпич – это один из самых дорогих материалов.

За правильный ответ - 2 балла.

7.3. С какими особенностями древнеегипетских верований связано изображение бытовых сцен земной жизни хозяина гробницы на её стенах? Что ещё могло быть помещено в гробницу в соответствии с данной особенностью религии Древнего Египта?

Ответ: Изображения связаны с верованиями тому что жизнь после смерти продолжается. Ещё в гробницу могли быть помещены еда вода фрукты.

За правильный ответ на первый вопрос - 2 балла, за правильный ответ на второй вопрос - 2 балла. Всего за задание - 4 балла

7.4. Как выглядели гробницы фараонов Древнего царства? Назовите 3 гробницы фараонов.

Ответ: Гробницы бы выглядели как гробы, но украшенные. Гробницы это большие пирамиды. Пирамида Хеопса.

За ответ на вопрос - 2 балла, за каждую правильно названную пирамиду - по 1 баллу, всего 3 балла.

8. Перед вами символы городов РФ. Попробуйте найти среди них гербы городов ХМАО. Ответы запишите в таблицу.



1.




2.




3.



4.




5.



6.



7.



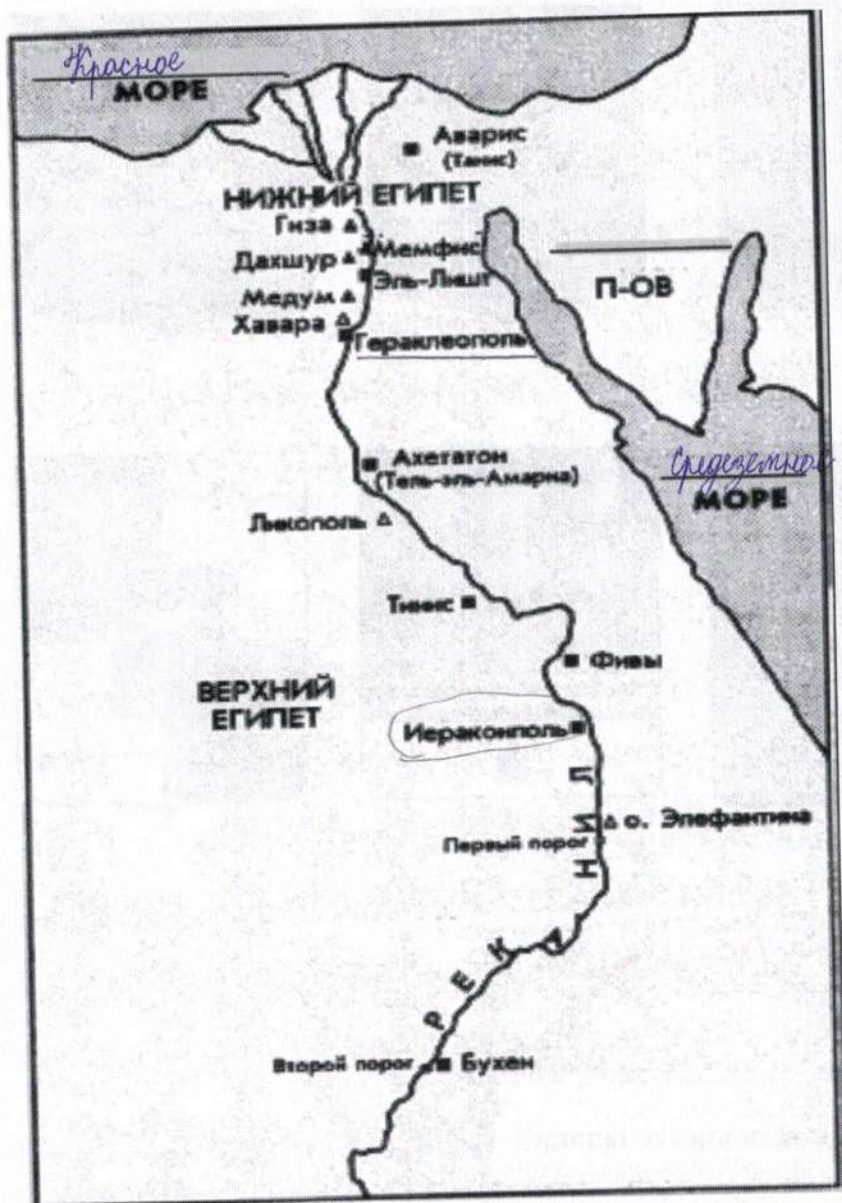
8.

Ответ:

4	6	1	7
---	---	---	---

По 2 балла за каждый правильный ответ. Всего за задание 8 баллов.

9. Внимательно рассмотрите карту и выполните задания



- 9.1. Подчеркните прямой линией первую столицу объединённого Верхнего и Нижнего Египта.
 - 9.2. Подчеркните волнистой линией город, где располагался центр культа бога Амона.
 - 9.3. Подпишите на карте пропущенные названия морей и пропущенное название полуострова.
 - 9.4. Обведите кружком название города, рядом с которым расположено одно из чудес света.
- Всего за задание 6 баллов.**

Максимум за работу 68 баллов.